


Time: 40 Minutes	Paper Math 2	Total Marks: 25
------------------	--------------	-----------------

6th Month, 1st Week, 6th Day	Syllabus: Revision Test
------------------------------	-------------------------

Q.1. Colour in circle blue, rectangle brown, triangle green and square yellow.

(10)


دائرے میں نیلا، مستطیل میں براؤن، مثلث میں سبز اور مربع میں پیلا رنگ کریں۔



Q.2. Colour the circle red, semi-circle green and quarter circle yellow. Write the total number of each shape.

(10)

دائرے میں سرخ، نصف دائرے میں سبز اور کوارٹر دائرے میں پیلا رنگ بھریں اور ان کی تعداد لکھیں۔



Q.3. What are the semi-circle and quarter circle? (5)

نصف دائرہ اور کوارٹر دائرہ کیا ہیں؟


Time: 40 Minutes	Paper Math 2	Total Marks: 25
------------------	--------------	-----------------

6th Month, 1st Week, 6th Day	Syllabus: Revision Test
------------------------------	-------------------------

Q.1. Colour in circle blue, rectangle brown, triangle green and square yellow.

(10)


دائرے میں نیلا، مستطیل میں براؤن، مثلث میں سبز اور مربع میں پیلا رنگ کریں۔



Q.2. Colour the circle red, semi-circle green and quarter circle yellow. Write the total number of each shape.

(10)

دائرے میں سرخ، نصف دائرے میں سبز اور کوارٹر دائرے میں پیلا رنگ بھریں اور ان کی تعداد لکھیں۔



Q.3. What are the semi-circle and quarter circle? (5)

نصف دائرہ اور کوارٹر دائرہ کیا ہیں؟